



Karta pracy – Dłuższy czy krótszy

Zadanie 1

W ogrodzie u mamy zakwitły różne gatunki żonkili o wysokości 30 cm i o wysokości 12 cm. Ile wynosi różnica ich wysokości?

Žonkile: cm. Žonkile: cm.

Różnica wysokości: cm.



Rozwiązanie:

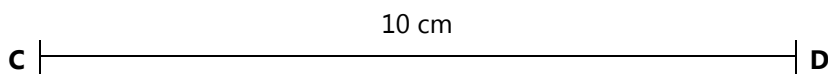
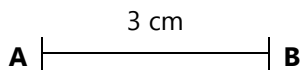
[illegible]

Odpowiedź:

[illegible]

Zadanie 2

Przed szkołą zaplanowano wykonanie klombu z kwiatami. Klomb ma kształt kwadratu. Jeden jego bok ma 5 m długości. Narysuj ten klomb za pomocą linijki, wiedząc, że 1 m w rzeczywistości odpowiada 1 cm w twoim zeszycie. Potem oblicz, ile metrów siatki potrzeba na ogrodzenie tego klombu.

[illegible][illegible][illegible]



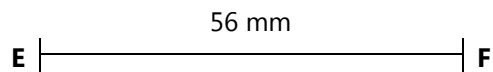
KAPITAŁ LUDZKI
CZŁOWIEK – NAJLEPSZA INWESTYCJA!

UNIA EUROPEJSKA
EUROPEJSKI
FUNDUSZ SPOŁECZNY



Projekt współfinansowany przez Unię Europejską w ramach Europejskiego Funduszu Społecznego.

Narysuj odcinek o 14 mm dłuższy od narysowanego:



Narysuj odcinek o 37 mm krótszy od narysowanego:

